

ΟΝΟΜΑ: _____

ΜΑΘΗΜΑΤΙΚΑ 6^η ΕΝΟΤΗΤΑ

Κεφ.39: Μετρώ το βάρος: Το κιλό και το γραμμάριο (β)


1. Βάζω √ στην σωστή μονάδα μέτρησης βάρους.

Αντικείμενο	Γραμμάρια	Κιλά
μία ξύστρα	√	
μία σβήστρα		
έξι ντομάτες		
η τσάντα μου		
ένα μυρμήγκι		
πέντε πατάτες		
μία καραμέλα		



Για ελαφριά αντικείμενα χρησιμοποιούμε τα γραμμάρια ενώ για τα βαριά τα κιλά.


2. Εκτιμώ το βάρος κάθε αντικειμένου και κυκλώνω τη σωστή απάντηση.



3 κ. 30 γραμ. 300 γραμ.

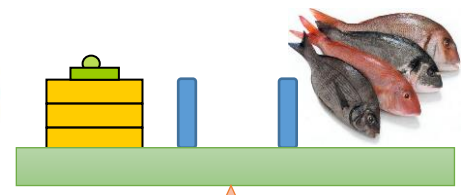

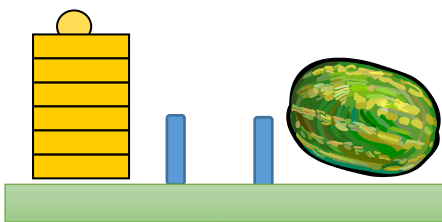


1 κ. 10 γραμ. 100 γραμ.



1 κ. 10 γραμ. 100 γραμ.

3. Αν  = 1 κιλό και  = μισό κιλό. Πόσο ζυγίζουν τα παρακάτω;



4. Γεμίζω την κάθε σακούλα με το σωστό βάρος.



2 κιλά



4 κιλά



5 κιλά



3 κιλά



2 κιλά



μισό κιλό




1 κιλό



μισό κιλό

5. Λύνω τα παρακάτω προβλήματα:

A. Η μαμά της Αντιγόνης αγόρασε από το χασάπικο της γειτονιάς 2 κιλά μοσχάρι κιμά. Πόσα χρήματα έδωσε στον χασάπη αν ο κιμάς κοστίζει 9 ευρώ το κιλό.



Υπολογίζω:

B. Ο κύριος Αλέξανδρος έδωσε 15 ευρώ για να αγοράσει ένα τσουρέκι από το φούρνο της γειτονιάς. Πόσα κιλά ήταν το τσουρέκι που αγόρασε;

Σκέφτομαι και απαντώ:



10€ το κιλό